

Resuelve el siguiente sistema de ecuaciones

$$\begin{cases} 3x + y = 2 \\ x + 2y = -1 \end{cases}$$

1

Resuelve el siguiente sistema de ecuaciones

$$\begin{cases} 7x + y = 8 \\ 2x - 5y = -3 \end{cases}$$

2

Resuelve el siguiente sistema de ecuaciones

$$\begin{cases} -3x + y = -1 \\ 4x + 2y = 8 \end{cases}$$

3

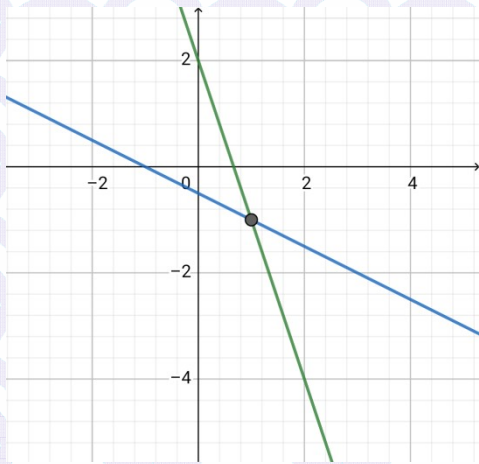
Resuelve el siguiente sistema de ecuaciones

$$\begin{cases} 3x + 2y = -5 \\ 2x - 5y = 3 \end{cases}$$

4

Asocia la siguiente gráfica con el sistema correspondiente

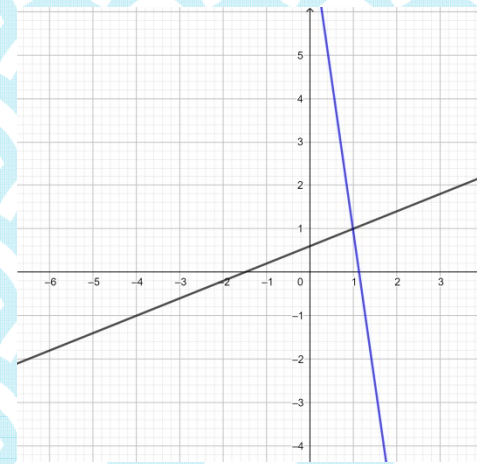
mi montessori
y nuestra forma de enseñar



D

Asocia la siguiente gráfica con el sistema correspondiente

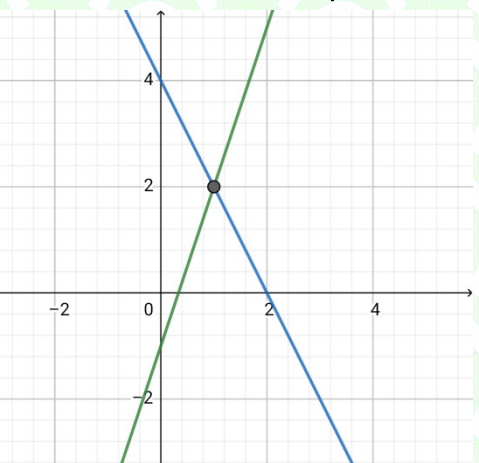
mi montessori
y nuestra forma de enseñar



B

Asocia la siguiente gráfica con el sistema correspondiente

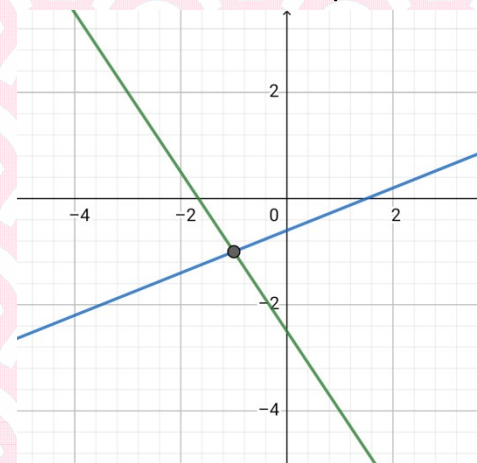
mi montessori
y nuestra forma de enseñar



C

Asocia la siguiente gráfica con el sistema correspondiente

mi montessori
y nuestra forma de enseñar



A

Resuelve el siguiente sistema de ecuaciones

$$\begin{cases} 2x - y = 1 \\ 3x + 2y = 5 \end{cases}$$

5

Resuelve el siguiente sistema de ecuaciones

$$\begin{cases} 2x - 2y = 2 \\ x + 2y = 1 \end{cases}$$

6

Resuelve el siguiente sistema de ecuaciones

$$\begin{cases} 3x - 2y = -1 \\ x + y = -2 \end{cases}$$

7

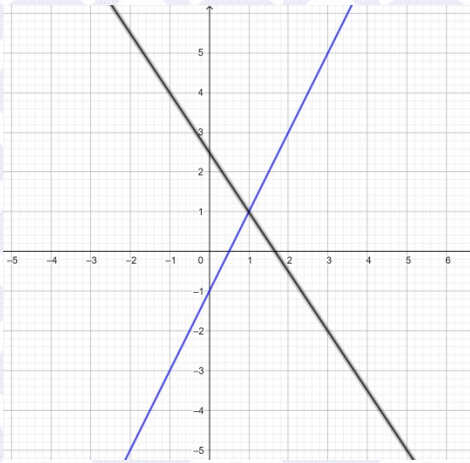
Resuelve el siguiente sistema de ecuaciones

$$\begin{cases} -x + y = 3 \\ -2x + 3y = 8 \end{cases}$$

8

Asocia la siguiente gráfica con el sistema correspondiente

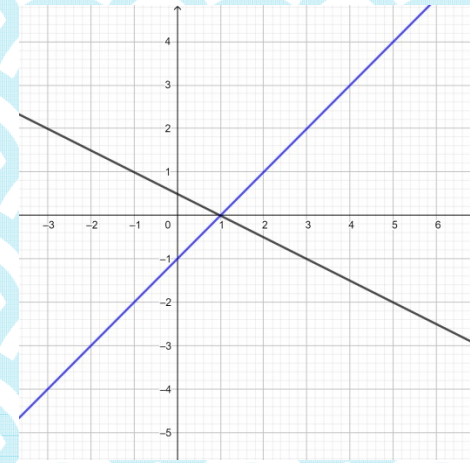
mi montessori y nuestra forma de enseñar



O

Asocia la siguiente gráfica con el sistema correspondiente

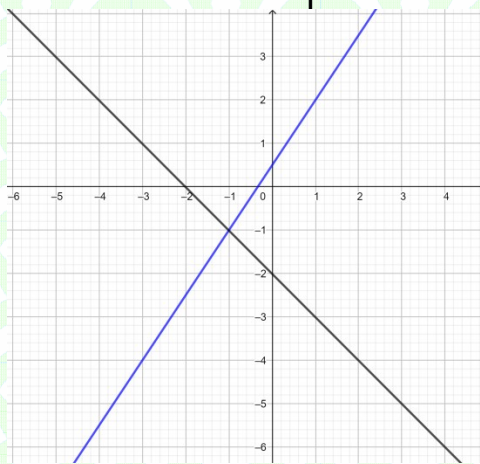
mi montessori y nuestra forma de enseñar



P

Asocia la siguiente gráfica con el sistema correspondiente

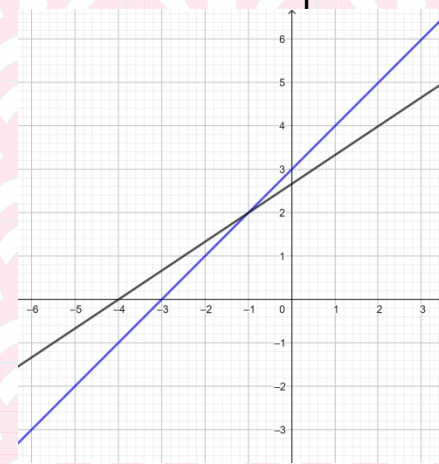
mi montessori y nuestra forma de enseñar



Q

Asocia la siguiente gráfica con el sistema correspondiente

mi montessori y nuestra forma de enseñar



R

Resuelve el siguiente sistema de ecuaciones

$$\begin{cases} 7x + 7y = 21 \\ x - 5y = -3 \end{cases}$$

9

Resuelve el siguiente sistema de ecuaciones

$$\begin{cases} 2x + 7y = 5 \\ 2x - 5y = -8 \end{cases}$$

10

Resuelve el siguiente sistema de ecuaciones

$$\begin{cases} 4x + y = -4 \\ -2x + y = 2 \end{cases}$$

11

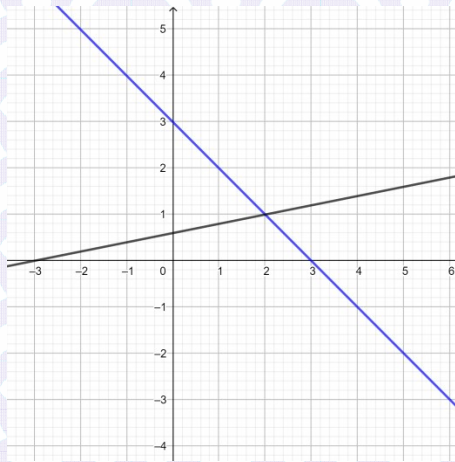
Resuelve el siguiente sistema de ecuaciones

$$\begin{cases} -2x + y = 0 \\ 2x + 3y = 0 \end{cases}$$

12

Asocia la siguiente gráfica con el sistema correspondiente

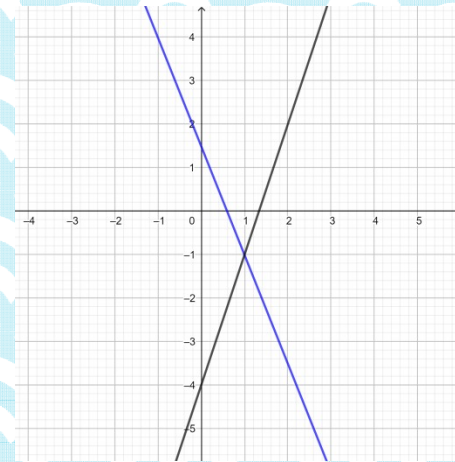
mi montessori
y muchas formas de aprender



F

Asocia la siguiente gráfica con el sistema correspondiente

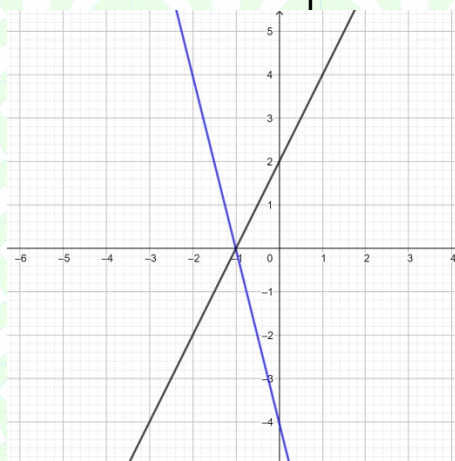
mi montessori
y muchas formas de aprender



E

Asocia la siguiente gráfica con el sistema correspondiente

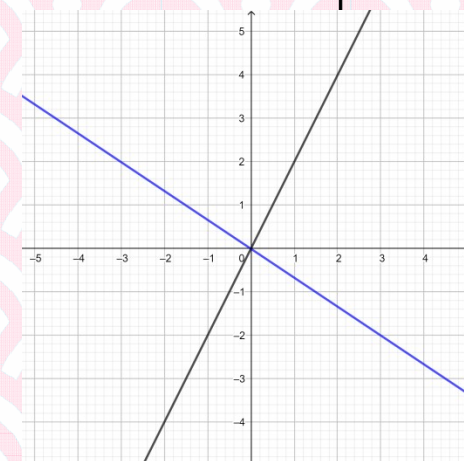
mi montessori
y muchas formas de aprender



H

Asocia la siguiente gráfica con el sistema correspondiente

mi montessori
y muchas formas de aprender



G

Resuelve el siguiente sistema de ecuaciones

$$\begin{cases} 2x - 5y = -1 \\ x + 3y = 5 \end{cases}$$

13

Resuelve el siguiente sistema de ecuaciones

$$\begin{cases} x + 7y = 6 \\ 2x + 5y = 3 \end{cases}$$

14

Resuelve el siguiente sistema de ecuaciones

$$\begin{cases} 2x - 7y = 5 \\ 6x + 3y = -9 \end{cases}$$

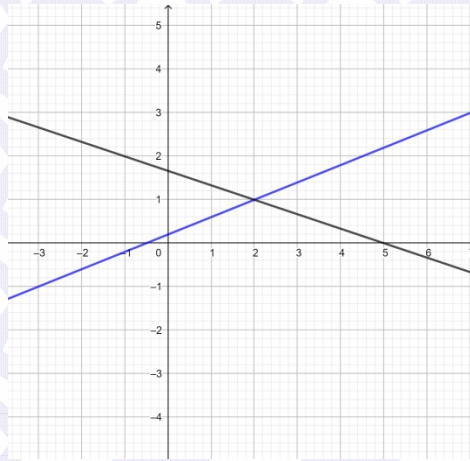
15

Resuelve el siguiente sistema de ecuaciones

$$\begin{cases} 3x - 2y = 5 \\ 4x + 7y = -3 \end{cases}$$

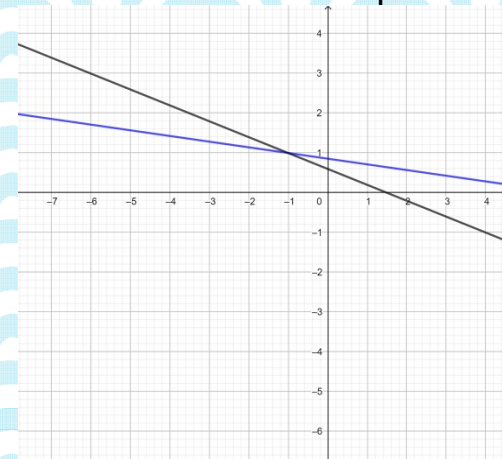
16

Asocia la siguiente gráfica con el sistema correspondiente



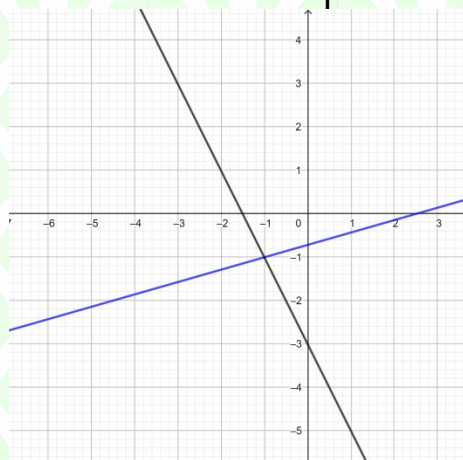
I

Asocia la siguiente gráfica con el sistema correspondiente



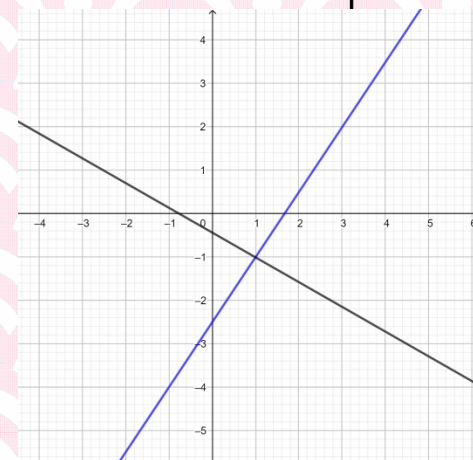
J

Asocia la siguiente gráfica con el sistema correspondiente



S

Asocia la siguiente gráfica con el sistema correspondiente



T

Resuelve el siguiente sistema de ecuaciones

$$\begin{cases} 3x + 2y = 3 \\ 4x + 7y = 4 \end{cases}$$

17

Resuelve el siguiente sistema de ecuaciones

$$\begin{cases} x + 12y = 8 \\ 4x + 7y = -9 \end{cases}$$

18

Resuelve el siguiente sistema de ecuaciones

$$\begin{cases} -3x + 7y = 1 \\ x + 2y = 4 \end{cases}$$

19

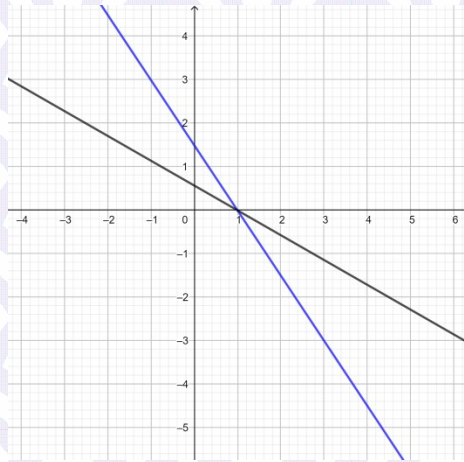
Resuelve el siguiente sistema de ecuaciones

$$\begin{cases} 5x + 2y = 3 \\ 3x - y = 4 \end{cases}$$

20

Asocia la siguiente gráfica con el sistema correspondiente

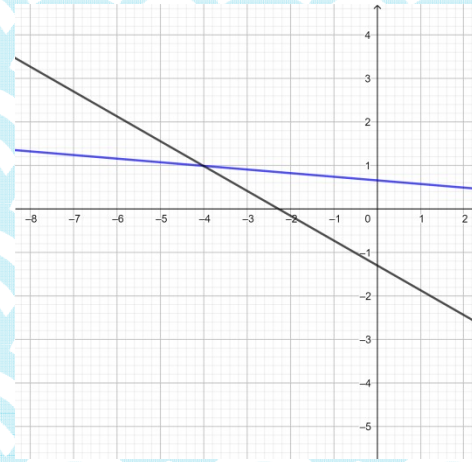
mi montessori
y nuestra forma de enseñar



M

Asocia la siguiente gráfica con el sistema correspondiente

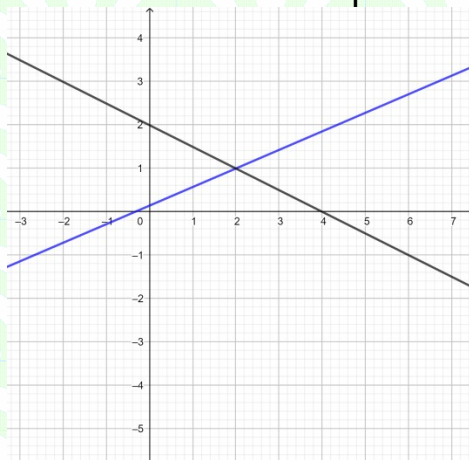
mi montessori
y nuestra forma de enseñar



N

Asocia la siguiente gráfica con el sistema correspondiente

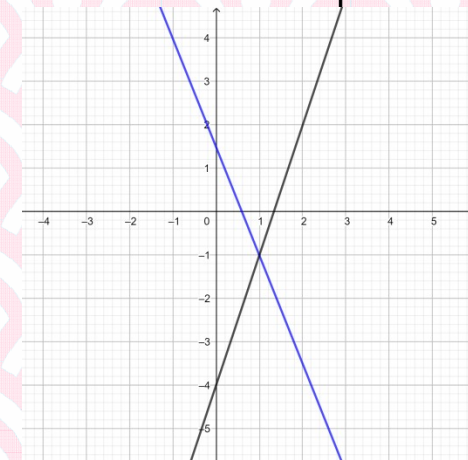
mi montessori
y nuestra forma de enseñar



K

Asocia la siguiente gráfica con el sistema correspondiente

mi montessori
y nuestra forma de enseñar



L

Sistema	Gráfica	Solución
1		
2		
3		
4		
5		

Sistema	Gráfica	Solución
6		
7		
8		
9		
10		

Sistema	Gráfica	Solución
11		
12		
13		
14		
15		

Sistema	Gráfica	Solución
16		
17		
18		
19		
20		

Sistema	Gráfica	Solución
1	D	$(1,-1)$
2	B	$(1,1)$
3	C	$(1,2)$
4	A	$(-1,-1)$
5	O	$(1,1)$

Sistema	Gráfica	Solución
6	P	$(1,0)$
7	Q	$(-1,-1)$
8	R	$(-1,2)$
9	F	$(2,1)$
10	E	$(1,-1)$

Soluciones

Sistema	Gráfica	Solución
11	H	$(0,-1)$
12	G	$(0,0)$
13	I	$(2,1)$
14	J	$(-1,1)$
15	S	$(-1,-1)$

Sistema	Gráfica	Solución
16	T	$(1,-1)$
17	M	$(1,0)$
18	N	$(-4,1)$
19	K	$(2,1)$
20	L	$(1,-1)$

Resolución:

Resolución:

Resolución:

Resolución: